

FICHA DE TRABALHO - 2º CICLO




Agora que terminaste a tua visita à Caravela gostaríamos de te propor algumas actividades e jogos inspirados no tema dos descobrimentos e no papel da caravela nos progressos da expansão portuguesa.

1. Junta as seguintes sílabas de modo a formares o nome de três navios dos séculos XV e XVI:

VE BA ãO LA NEL RA GA CA RI LE

11 . A viagem para a Índia demorava, em média cerca de seis meses. Descobre em que altura do ano partiam as Caravelas e resolve o enigma fazendo corresponder o resultado da soma ao código das letras.

1	2	3	4	5	6	7	8	9
A	O	R	Ç	I	J	M	E	T




2. Na época dos Descobrimentos não existiam relógios. Existiam um instrumento chamado ampulheta que media o tempo e instrumentos náuticos para medir as distâncias, a saber:


- a) O astrolábio, ao meio-dia, através da medição da altura do sol, permitia saber a distância entre o ponto de partida e o lugar onde se encontrava a embarcação;**

- b) A bússola é o instrumento mais conhecido dos Descobrimentos, indica sempre o Norte sendo uma ajuda preciosa para todo e qualquer navegador;**

- c) A Balestilha apareceu após o Astrolábio. O quadrante foi o primeiro instrumento a usar o horizonte do mar para medir a altura em graus que o unia ao astro.**

3. Identifica os Instrumentos náuticos e escreve nome de cada um deles abaixo da respectiva figura.







4. Os instrumentos náuticos representados eram utilizados habitualmente nos navios. Assinala com uma cruz, a resposta correcta:

- a) Na construção das caravelas;
- b) Na navegação pelos astros;
- c) Na medição das distâncias entre navios;
- d) Nas reparações em alto mar.

5. Sublinha os alimentos consumidos a bordo das Caravelas:

Mel, biscoito, queijo, bife, feijão, vinho do porto, carne salgada, peixe seco e fiambre.

6. Em todas as linhas horizontais encontrarás um produto trazido pelos Portugueses do Oriente. Procura e assinala cada produto encontrado.

MDZAXASEDASTRGTGUFYITYEVFJHOPXR

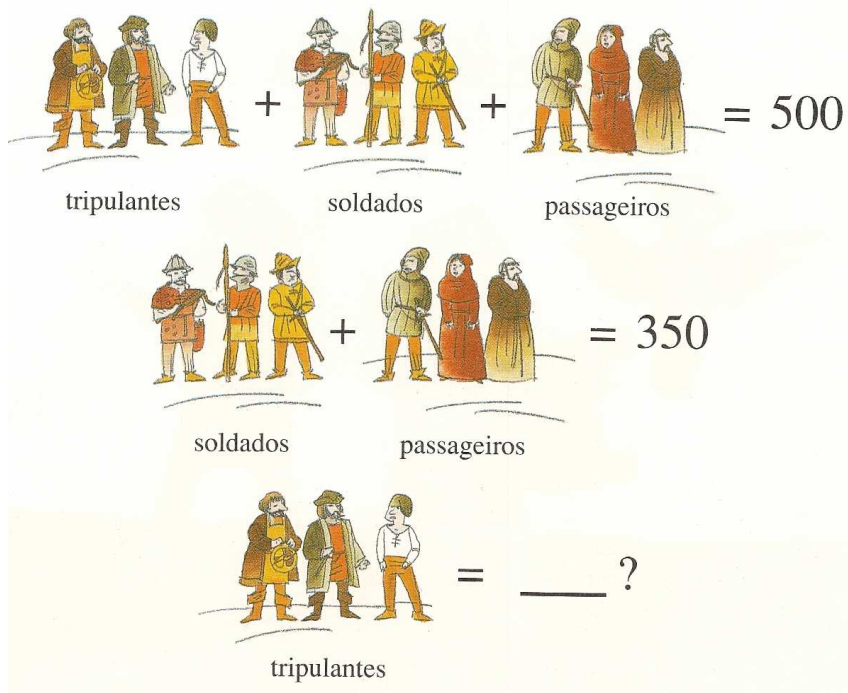
OKPORCELANASDBNMMNBVCPNLKREX

AWXBÚSSULAPLANTAS TINTUREIRASRT

IUTRBARESPECIARIASPMVCSERTIAERXI

SLIASTRPEDRAS PRECIOSASTRANANTE

7. Sabes qual é aproximadamente o número de tripulantes de uma Nau? Resolve o enigma.



Desenho livre

NOME _____ **TURMA** _____ **ANO DE ESCOLARIDADE** _____

Ficha de trabalho adaptada do Guia da Caravela e livro A Vida a Bordo das Naus, editados pelo GTMEPCDP

Notas

Barinel é uma espécie de [embarcação](#) pequena, à vela, que possui um único [mastro](#) contendo uma vela quadrangular. Pode ser movido utilizando a vela ou através de [remos](#).

Galeão é um navio a vela que possui quatro [mastros](#), de alto bordo, armado em guerra e utilizado no transporte de cargas.

Caravela é uma embarcação, de vela latina usada pelos [portugueses](#) na [Era](#) dos Descobrimentos.